

ADE

AVALIAÇÃO DESEMPENHO EDUCACIONAL

NOME:

5º ANO:

PROFESSORA:

AVALIANDO A ALFABETIZAÇÃO EM MATEMÁTICA

SECRETARIA MUNICIPAL DE EDUCAÇÃO

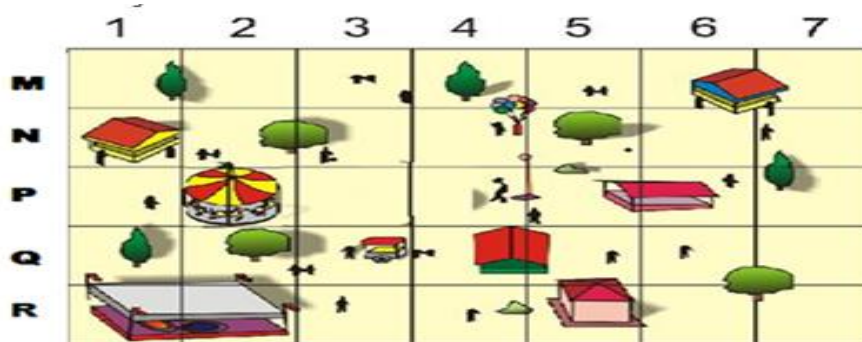
RONCADOR, 2017

AVALIAÇÃO DE MATEMÁTICA

QUESTÃO 01

Observe o parque de diversões representado abaixo.

Assinale a alternativa que mostra a localização do Carrossel.



A () N3


B () P3

C () N2

D () P2

QUESTÃO 02

O brinquedo preferido de João está no seu lado esquerdo. Qual é o brinquedo preferido de João?



A () bola

B () pipa

C () casa

D () bicicleta

QUESTÃO 03

Maria colocou um bolo para assar na hora indicada no relógio da figura seguinte:



O bolo ficou pronto em 30 minutos. Que horário o relógio indicava quando o bolo ficou pronto?

- A () 11 horas e 50 minutos
- B () 12 horas e 5 minutos
- C () 12 horas e 50 minutos
- D () 13 horas e 10 minutos

QUESTÃO 04

Utilizei meio metro de cartolina para fazer um desenho. Qual o valor desta medida em centímetros?

- A () 65 cm
- B () 60 cm
- C () 55 cm
- D () 50 cm

QUESTÃO 05

Claudia comprou 2 metros de tecido para fazer um vestido.

Podemos afirmar que em 2 m há:

- A () 2000 cm
- B () 20 cm
- C () 2 cm
- D () 200 cm



QUESTÃO 06

Mateus tinha algumas figurinhas em seu álbum, ganhou 18 figurinhas de Vitor e destas deu 16 para Paulo.

Quantas figurinhas aumentaram no álbum de Mateus?

- A () 2
- B () 16
- C () 18
- D () 34



QUESTÃO 07

Em um estacionamento cabem 386 carros e o triplo de motos.

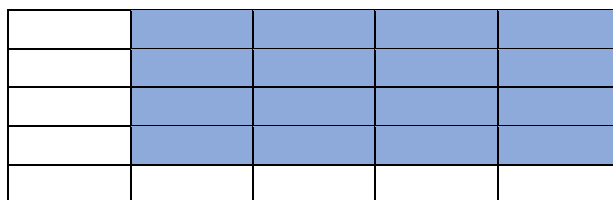
Quantas motos cabem nesse estacionamento?

- A () 3
- B () 46
- C () 82
- C () 1158



QUESTÃO 08

Paulo está colocando lajotas no piso da garagem da garagem de sua casa. A figura mostra o piso da garagem e, em tom mais escuro, a área que já foi revestida.



Quantas lajotas ainda deverão ser colocadas para cobrir todo o piso da garagem?

- A () 12
- B () 13
- C () 9
- D () 10

QUESTÃO 09

Um viajante fez uma viagem de ônibus durante 83 horas.

Portanto ele viajou:

- A () 3 dias
- B () 2 dias e 22 horas.
- C () 3 dias e 11 horas.
- D () 2 dias e meio.



QUESTÃO 10

Virgínia tinha R\$ 45,25 e gastou R\$ 32,10 para comprar uma sandália.

Quanto ela ainda possui?

- A () R\$ 1,315
- B () R\$ 13,15
- C () R\$ 32,10
- D () R\$ 77,35



BOA SORTE!

